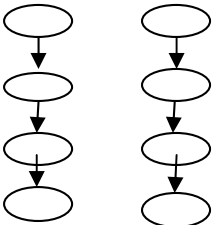











ردیف	شرح سوال	بارم
الف	<p>پاسخ صحیح را با علامت (<input checked="" type="checkbox"/>) مشخص کنید.</p> <p>۱/ اولین مرحله در تصمیم گیری کدام است؟</p> <p><input type="checkbox"/> الف: پیش بینی نتیجه تصمیم <input type="checkbox"/> ب: خوب فکر کردن <input type="checkbox"/> ج: بررسی راه حل <input type="checkbox"/> د: نتیجه گیری</p> <p>۲/ این سخن از کیست؟ "با نیکان همدلی و رفاقت کن تا از آنان باشی و از بدان جدا شو تا از آنان نباشی"</p> <p><input type="checkbox"/> الف: امام علی (ع) <input type="checkbox"/> ب: امام حسین (ع) <input type="checkbox"/> ج: امام کاظم (ع) <input type="checkbox"/> د: پیامبر (ص)</p> <p>۳/ کدام انرژی قابل تجدید نیست؟</p> <p><input type="checkbox"/> الف: باد <input type="checkbox"/> ب: آب <input type="checkbox"/> ج: هسته ای <input type="checkbox"/> د: خورشید</p> <p>۴/ نیروگاه اتمی ایران در کدام شهر واقع است؟</p> <p><input type="checkbox"/> الف: یزد <input type="checkbox"/> ب: کرمان <input type="checkbox"/> ج: ماهشهر <input type="checkbox"/> د: بوشهر</p> <p>۵/ کدام شهر بعد از تهران و مشهد، پر جمعیت ترین شهر ایران است؟</p> <p><input type="checkbox"/> الف: تبریز <input type="checkbox"/> ب: اردبیل <input type="checkbox"/> ج: اصفهان <input type="checkbox"/> د: یزد</p> <p>۶/ روی کدام نقشه، مکانهای دیدنی و آثار تاریخی نشان داده می شود؟</p> <p><input type="checkbox"/> الف: جاده ها و آزاد راهها <input type="checkbox"/> ب: گردشگری <input type="checkbox"/> ج: منابع طبیعی <input type="checkbox"/> د: پراکندگی جمعیت</p> <p>۷/ چه کسی درباره تقویم، محاسبه سال و ماه، اندازه گیری حرکت ماه و سیارات کتابهای زیادی نوشته است.</p> <p><input type="checkbox"/> الف: اسماعیل جزری <input type="checkbox"/> ب: ابن سینا <input type="checkbox"/> ج: زکریای رازی <input type="checkbox"/> د: ابوریحان بیرونی</p> <p>۸/ اوج شکوفایی شهر اصفهان، مربوط به کدام دوره است؟</p> <p><input type="checkbox"/> الف: صفویان <input type="checkbox"/> ب: اشکانیان <input type="checkbox"/> ج: سلجوقیان <input type="checkbox"/> د: هخامنشیان</p>	۴
ب	<p>جاهای خالی را با کلمات مناسب پر کنید.</p> <p>۱/ دوره ای که مسلمانان در پیشرفت علمی بودند و اروپاییان در جهل و خرافات بودند به معروف است.</p> <p>۲/ دانشگاههای امروز جهان تقلیدی از است.</p> <p>۳/ یکی از هنرهای مهم در زمان صفویان، هنر بوده است.</p> <p>۴/ در دوره اسلامی به دانشمندان می گفتند.</p> <p>۵/ در وسیله ای که می خریم هرچه فلش به سمت نزدیک تر باشد، کارایی آن بیشتر است.</p> <p>۶/ معادن اورانیوم کشور در استان است. ۷/ برق حرارتی درصد از تولید برق کشور را تشکیل می دهد.</p> <p>۸/ ما بخش عمده ای از غذای خود را از راه به دست می آوریم.</p>	۴

۲	<p>ج صحیح یا غلط بودن عبارتهای زیر را مشخص کنید. (ص) / (غ)</p> <p>۱) کشت گلخانه ای در مقایسه با سایر کشت ها در صرفه جویی مصرف آب بهتر است.</p> <p>۲) دما یکی از عوامل طبیعی است.</p> <p>۳) گوجه محصولی باغی است.</p> <p>۴) کشاورزی دارای دو مرحله است.</p> 	ج																		
<p>۱/۵</p> <p>۱</p> <p>۱</p> <p>۱</p> <p>۲</p> <p>۱/۵</p>	<p>د به سوالات زیر پاسخ کامل دهید.</p> <p>۱/ کتیبه چیست و از آن چه استفاده هایی می شده است؟</p> <p>۲/ خط زمان را تعریف کنید.</p> <p>۳/ چهار مکان دیدنی شهرنصف جهان کدام است ؟</p> <p>۴/ چرا کشور ما می خواهد به انرژی هسته ای دست پیدا کند؟</p> <p>۵/ جدول علت و معلول را تکمیل کنید.</p> <div data-bbox="204 925 1433 1339"> <p style="text-align: center;">(علت) ↓</p> <table border="1" style="width: 100%; border-collapse: collapse;"> <tr><td style="height: 30px;"></td><td rowspan="4" style="text-align: center; vertical-align: middle;">↓ معلول</td><td rowspan="4" style="width: 30%; padding: 10px; vertical-align: middle;">پیشرفت علمی مسلمانان و شکوفایی علوم و فنون در دوره اسلامی</td></tr> <tr><td style="height: 30px;"></td></tr> <tr><td style="height: 30px;"></td></tr> <tr><td style="height: 30px;"></td></tr> </table> </div> <p>۶/ جدول زیر را کامل کنید.</p> <table border="1" style="width: 100%; border-collapse: collapse; text-align: center;"> <thead> <tr> <th style="width: 33%;">بدی ها (معایب)</th> <th style="width: 33%;">خوبی ها (مزایا)</th> <th style="width: 33%;">انرژی</th> </tr> </thead> <tbody> <tr> <td style="height: 30px;"></td> <td style="height: 30px;"></td> <td style="height: 30px;"> تفت</td> </tr> <tr> <td style="height: 30px;"></td> <td style="height: 30px;"></td> <td style="height: 30px;"> خورشیدز</td> </tr> <tr> <td style="height: 30px;"></td> <td style="height: 30px;"></td> <td style="height: 30px;"> باد</td> </tr> </tbody> </table>		↓ معلول	پیشرفت علمی مسلمانان و شکوفایی علوم و فنون در دوره اسلامی				بدی ها (معایب)	خوبی ها (مزایا)	انرژی			 تفت			 خورشیدز			 باد	د
	↓ معلول	پیشرفت علمی مسلمانان و شکوفایی علوم و فنون در دوره اسلامی																		
بدی ها (معایب)	خوبی ها (مزایا)	انرژی																		
		 تفت																		
		 خورشیدز																		
		 باد																		
<p>۱</p> <p>۱</p>	<p>ه ۷/ دو ناحیه گازی را در کشور نام ببرید؟</p> <p>۸/ دو استان شمالی تولید کننده برنج را نام ببرید؟</p>	ه																		

